

# ATIVIDADE DE APOIO AO ESTUDANTE III

## 5º ANO DO ENSINO FUNDAMENTAL



Caro(a) estudante,

Durante o ano letivo você aprendeu de diversas formas e sobre muitas coisas na interação com seus professores e colegas. As atividades avaliativas que você realizou serviram para constatar aprendizagens e revelar o que você ainda precisa estudar mais. Essa última atividade tem a finalidade revisar alguns conteúdos que você precisa fortalecer, pois eles estarão presentes em momentos diversos que você ainda terá em sua vida. Responda com atenção e depois converse com o(a) professor(a).

Por favor, preencha os campos de identificação abaixo.

UNIDADE ESCOLAR \_\_\_\_\_

MUNICÍPIO \_\_\_\_\_

NOME DO ESTUDANTE \_\_\_\_\_

IDADE \_\_\_\_\_ SEXO: MASCULINO  FEMININO

TURMA \_\_\_\_\_ TURNO \_\_\_\_\_

LÍNGUA PORTUGUESA  
MATEMÁTICA

### ORIENTAÇÕES

Esta atividade é composta de 10 questões de Língua Portuguesa e 10 de Matemática.

- Leia com atenção antes de responder e marque suas respostas.
- Cada questão tem uma única resposta correta. Marque a opção que você escolher como certa.
- Procure não deixar questão sem resposta.
- Você terá 50 minutos para responder as questões de Língua Portuguesa e de Matemática.
- Atenção! Observe corretamente se a questão é de Língua Portuguesa ou de Matemática, antes de marcar no Cartão de Respostas! Utilize caneta de tinta azul ou preta.

### CARTÃO DE RESPOSTAS

LÍNGUA PORTUGUESA									
1	2	3	4	5	6	7	8	9	10
A	A	A	A	A	A	A	A	A	A
B	B	B	B	B	B	B	B	B	B
C	C	C	C	C	C	C	C	C	C
D	D	D	D	D	D	D	D	D	D
MATEMÁTICA									
1	2	3	4	5	6	7	8	9	10
A	A	A	A	A	A	A	A	A	A
B	B	B	B	B	B	B	B	B	B
C	C	C	C	C	C	C	C	C	C
D	D	D	D	D	D	D	D	D	D

Leia o texto “O hábito de leitura” para responder as questões 01 e 02.

**Texto 1**

**O hábito de leitura**

(TB\_007164 – Saeb)

“A criança é o pai do homem”. A frase, do poeta inglês William Wordsworth, ensina que o adulto conserva e amplia qualidades e defeitos que adquiriu quando criança. Tudo que se torna um hábito dificilmente é deixado. Assim, a leitura poderia ser uma mania prazerosa, um passatempo.

Você, coleguinha, pode descobrir várias coisas, viajar por vários lugares, conhecer várias pessoas, e adquirir muitas experiências enquanto lê um livro, jornal, gibi, revista, cartazes de rua e até bula de remédio. Dia 25 de janeiro foi o dia do Carteiro. Ele leva ao mundo inteiro várias notícias, intimações, saudades, respostas, mas tudo isso só existe por causa do hábito da leitura. E aí, vamos participar de um projeto de leitura?

CORREIO BRAZILIENSE, Brasília, 31 de janeiro de 2004. p.7.

**Questão 01** (ITFM02D122019LP5) No trecho “adulto conserva e amplia qualidades e defeitos que adquiriu quando criança”, a expressão sublinhada dá ideia de

- A) causa.
- B) explicação.
- C) lugar.
- D) tempo.

**Questão 02** (ITFM03D102019LP5) O trecho do texto que se percebe que o narrador busca uma interação com o leitor é:

- A) “o adulto conserva e amplia qualidades e defeitos...”
- B) “...a leitura poderia ser uma mania prazerosa,..”
- C) “Você, coleguinha, pode descobrir várias coisas...”
- D) “Ele leva ao mundo inteiro várias notícias,..”

Leia o texto “Televisão” responder a questão 03.

**Texto 2**

**Televisão**

Televisão é uma caixa de imagens que fazem barulho.  
Quando os adultos não querem ser incomodados, mandam as crianças ir assistir à televisão.  
O que eu gosto mais na televisão são os desenhos animados de bichos.  
Bicho imitando gente é muito mais engraçado do que gente imitando gente, como nas telenovelas.  
Não gosto muito de programas infantis com gente fingindo de criança.  
Em vez de ficar olhando essa gente brincar de mentira, prefiro ir brincar de verdade com meus amigos e amigas.  
Também os doces que aparecem anunciados na televisão não têm gosto de coisa alguma porque ninguém pode comer uma imagem.  
Já os doces que minha mãe faz e que eu como todo dia, esse sim, são gostosos.  
Conclusão: a vida fora da televisão é melhor do que dentro dela.

PAES, J. P. Televisão. In: Vejam como eu sei escrever. 1. ed. São Paulo, Ática, 2001. p. 26-27.

**Questão 03** (AAITFM02D9LP5EF) Considerando o local que foi publicado, esse texto tem como finalidade

- A) anunciar um fato.
- B) entreter o leitor.
- C) divulgar um programa.
- D) orientar como ver TV.

Leia o texto “Crucificado” pela gripe, porco é animal de estimação de famosos para responder à questão 04.

### Texto 3 “Crucificado” pela gripe, porco é animal de estimação de famosos

Ainda não há provas que o incriminem definitivamente pelo atual surto de gripe que atingiu 11 países. Mesmo assim, o porco já vem sendo julgado culpado por autoridades mundo afora, que determinam até a morte de criações inteiras.

Na última segunda-feira (27), a OIE (Organização Mundial para a Saúde Animal) reiterou que ainda não foi comprovada a relação entre o vírus e os animais e pediu que a gripe suína seja denominada gripe da América do Norte.

Mas, para algumas pessoas, pouco importa se a culpa é ou não do porco. Para elas, o animal não é um inimigo, e sim um companheiro para todas as horas.

Fonte: <<http://www1.folha.uol.com.br/acessado>>. Acesso em: 5 set. 2009.

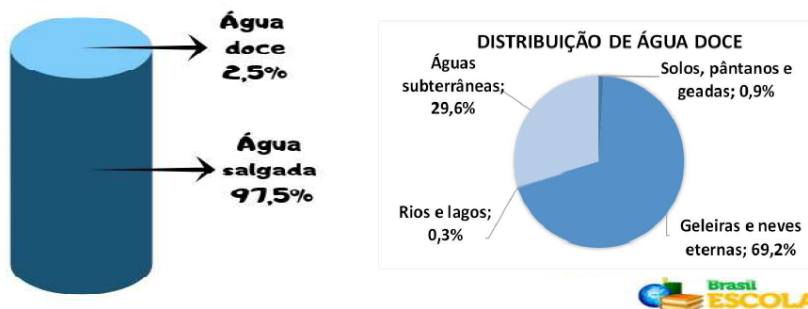
**Questão 04** (questão adaptada/D2) No trecho “Ainda não há provas que o o incriminem definitivamente pelo atual surto de gripe que atingiu 11 países.”, o termo sublinhado se refere ao

- A) surto.
- B) vírus.
- C) inimigo.
- D) porco.

Leia o texto “Distribuição de água no planeta” para responder à questão 05.

### TEXTO 4

## Distribuição de água no planeta



<https://brasilecola.uol.com.br/geografia/agua.htm> Acesso em: 11.07.2019

**Questão 05** (AFITFM4LP5EFD4) De acordo com as informações apresentadas no texto, percebe-se que

- A) a água doce não tem uma distribuição uniforme.
- B) a água salgada pode ser transformada em água doce.
- C) o percentual de água doce é maior que o de água salgada.
- D) a água salgada é bem distribuída no planeta.

Leia o texto “Os pantanais” para responder à questão 06.

### Texto 5 Os Pantanais

O homem pantaneiro é muito ligado à terra em que vive. Muitos moradores não pretendem sair da região. E não é pra menos: além das paisagens e do mais lindo pôr-do-sol do Brasil Central, o Pantanal é um santuário de animais selvagens. Um morador do Pantanal do rio Cuiabá, olhando para um bando de aves, voando sobre veados e capivaras, exclamou: “O Pantanal parece com o mundo no primeiro dia da criação.”

SALDANHA, P. *Os pantanais*. Rio de Janeiro: Ediouro, 1995.

**Questão 06** (AFITFM5LP5EFD11) No texto “Os Pantanais”, a expressão que revela uma opinião do autor é

- A) “moradores não pretendem sair da região”.
- B) “mais lindo pôr-do-sol do Brasil”.
- C) “é o santuário de animais selvagens”.
- D) “olhando para um bando de aves”.

Leia a tirinha para responder as questões 07 e 08.



<http://turmadamonica.uol.com.br/tirinhas/index.php?a=43>

**Questão 07**(AFIIIFMLP5EFD13) O que torna o texto engraçado é

- A) a cara que Mônica faz com a resposta de Magali.
- B) a diversão de Magali com a cara de Mônica.
- C) a quantidade de creme dental que Magali vai ter que usar.
- D) a preocupação de Magali com a limpeza dos dentes.

**Questão 08**(AFIIIFMLP5EFD4) Pode-se inferir do texto que

- A) Magali faz muitas refeições.
- B) Mônica não gosta de escovar os dentes.
- C) Magali tem mania de escovar os dentes.
- D) Mônica quer escovar os dentes.

Leia o texto “O cavalo descontente” para responder as questões 09 e 10.

#### Texto 7

#### O cavalo descontente

Era uma vez um cavalo que, em pleno inverno, desejava o regresso da primavera. De fato, ainda que agora descansasse tranquilamente no estábulo, via-se obrigado a comer palha seca.

– Ah, como sinto saudades de comer a erva fresca que nasce na primavera! Dizia o pobre animal.

A primavera chegou e o cavalo teve sua erva fresca, mas começou a trabalhar bastante porque era época da colheita.

– Quando chegará o verão? Já estou farto de passar o dia inteiro puxando o arado!

Lamentava-se o cavalo.

Chegou o verão, mas o trabalho aumentou e o calor tornou-se muito forte.

– Oh, o outono! Estou ansioso pela chegada do outono! Dizia mais uma vez o cavalo, convencido de que naquela estação terminariam seus males.

Mas no outono teve que carregar lenha para que seu dono estivesse preparado para enfrentar o inverno. E o cavalo não parava de queixar-se e de sofrer.

Quando o inverno chegou novamente, e o cavalo pode finalmente descansar, compreendeu que tinha sido fantasioso tentar fugir do momento presente e esconder-se no futuro. Esta não é a melhor forma de encarar a realidade da vida.

É melhor descobrir o que a vida tem de bom momento a cada momento, vivendo o presente da melhor forma possível.

Disponível em: <<http://metaforas.com.br/o-cavalo-descontente>>. Acesso em: 8 jan. 2016. Fragmento. (P050006H6\_SUP)

**Questão 09** (P050011H6) No trecho “Já estou farto de passar o dia inteiro puxando o arado!”, o ponto de exclamação reforça a ideia de

- A) deboche.
- B) irritação.
- C) medo.
- D) surpresa.

**Questão 10** (P050006H6) De acordo com esse texto, a reclamação do cavalo, na primavera, era que

- A) a lenha tinha que ser levada para seu dono.
- B) a palha estava seca.
- C) o calor estava forte.
- D) o trabalho aumentou na época da colheita.

**Questão 01** (M050118G5) Observe a conta no quadro abaixo.

$$5 \times 108$$

Qual é o resultado dessa conta?

- A) 113
- B) 540
- C) 550
- D) 700

**Questão 02** (M040147H6) Observe o número que está no quadro abaixo.

4.850

Qual é o valor posicional do algarismo 8 nesse número?

- A) 8
- B) 80
- C) 800
- D) 8 000

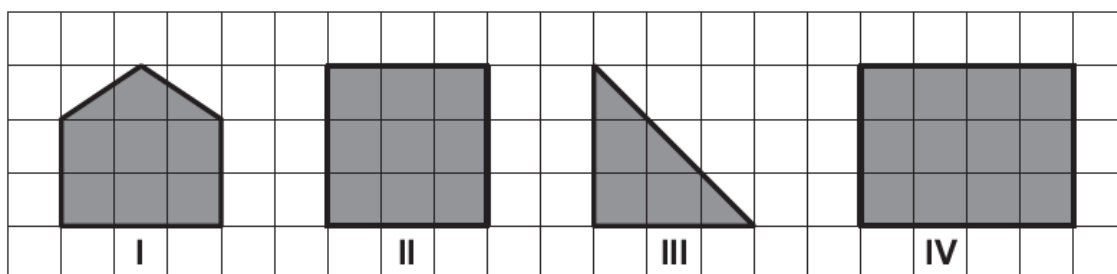
**Questão 03** (M041456E4) Observe a conta abaixo.

$$652 + 39$$

Qual é o resultado dessa conta?

- A) 681
- B) 691
- C) 1 042
- D) 6 811


**Questão 04** (M050057G5) Observe as figuras geométricas, em cinza, representadas na malha quadriculada abaixo.



Qual dessas figuras é um quadrado?

- A) I
- B) II
- C) III
- D) IV

**Questão 05** (M051500E4) Observe abaixo a hora marcada no relógio de uma estação de trem.



Qual é a hora marcada nesse relógio?

- A) 5 horas e 47 minutos.
- B) 9 horas e 5 minutos.
- C) 9 horas e 25 minutos.
- D) 10 horas e 25 minutos.

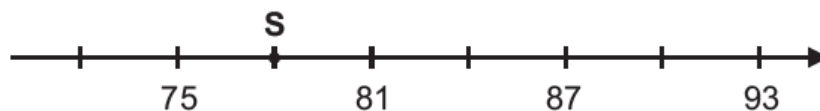
**Questão 06** (M051385E4) Uma loja de roupas está organizando o estoque e resolveu fazer um quadro com a quantidade de blusas que ainda restam para vender por cores e tamanhos.

	Blusas Brancas	Blusas Vermelhas
Tamanho P	18	21
Tamanho M	07	13
Tamanho G	32	25

Quantas blusas vermelhas tamanho P ainda restam nessa loja?

- A) 13
- B) 18
- C) 21
- D) 25

**Questão 07** (M050022G5) Observe a reta numérica abaixo. Ela está dividida em partes iguais.



Qual é o número que está representado pelo ponto S nessa reta?

- A) 76
- B) 78
- C) 80
- D) 82

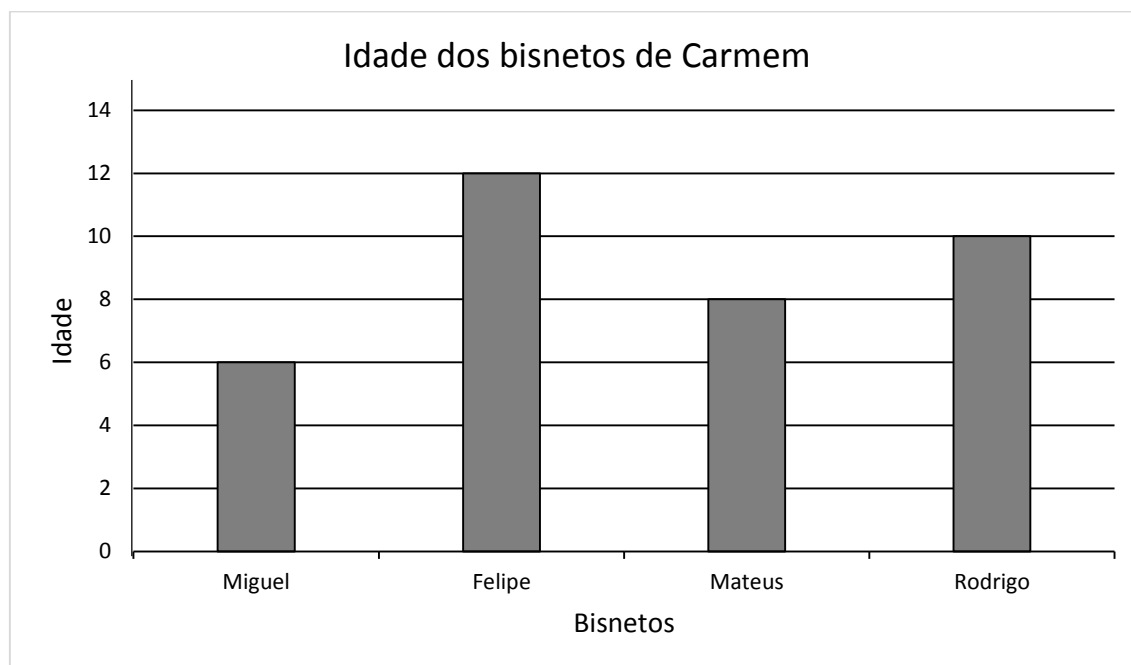
**Questão 08** (M052190E4) Em uma partida de basquete jogada em dois tempos, a equipe Azul marcou 52 pontos no primeiro tempo e, no final da partida, havia marcado um total de 114 pontos. Quantos pontos a equipe Azul marcou no segundo tempo dessa partida?

- A) 166
- B) 72
- C) 62
- D) 414

**Questão 09** (M050161H6) Ana fez uma cirurgia e precisou ficar três semanas de repouso. Quantos dias Ana ficou de repouso após essa cirurgia?

- A) 3
- B) 7
- C) 15
- D) 21

**Questão 10** (M041694E4) Observe no gráfico abaixo a idade dos bisnetos de Carmem.



De acordo com esse gráfico, qual dos bisnetos de Carmem tem 8 anos de idade?

- A) Felipe.
- B) Mateus.
- C) Miguel.
- D) Rodrigo.